



**İLKOKULLARDA  
UZAKTAN  
EĞİTİM  
SÜRECİNDE  
KAZANIM  
KAVRAMA  
ÇALIŞMASI**

#sakaryacevrimici

#hayatevesiğar



**BU KİTAPÇIKTA**

**TÜRKÇE 15 SORU**

**MATEMATİK 15 SORU**

**SOSYAL BİLGİLER 15 SORU**

**FEN BİLİMLERİ 15 SORU**

**İNGİLİZCE 10 SORU**

**DKAB 10 SORU**

**YER ALMAKTADIR**

Bu çalışmada yer alan TOKİ İlkokulu, Atatürk İlkokulu, Selçukbey İlkokulu, Mehmet Zorlu İlkokulu idareci ve öğretmenlerine teşekkürler...

**SAKARYA MEM**  
**2020**



4. Aşağıdaki ifadelerin hangisinde büyük harflerin yazımı ile ilgili bir hata yapılmıştır?

- A) Milli Mücadele döneminde bin dokuz yüz on dokuz yılı çok zor geçmiştir.  
B) Bilim ve teknoloji alanındaki gelişmeler XX. yüzyılda hız kazanmıştır.  
C) Babam, Japonya seyahatimiz için THY'nin indirimli biletlerinden almış.  
D) 24 temmuz 1923'te imzalanan Lozan Barış Antlaşması ile bağımsızlığımıza kavuştuk.

a) İçli dışlı olmak

b) Gözden düşmek

c) Pireyi deve yapmak

d) Dil dökmek

1. Değerini ve güvenini yitirmek

2. Söylediklerine İnanırmak için çok konuşmak

3. Çok samimi olmak

4. Küçük bir durumu büyütüp abartmak

5. Yukarıdaki deyimlerle anlamlarının eşleştirmesi hangi seçenekte doğru verilmiştir?

A) a-4 b-3 c-1 d-2

B) a-3 b-1 c-2 d-4

C) a-2 b-4 c-3 d-1

D) a-3 b-1 c-4 d-2

Tarık, futbolu çok sevdiği için ünlü futbolcuların resimlerinden oluşan bir koleksiyon hazırlıyordu.

6. Yukarıdaki ifadede altı çizili söz öbeği hangi sorunun cevabıdır?

A) Kim?

B) Niçin?

C) Nasıl?

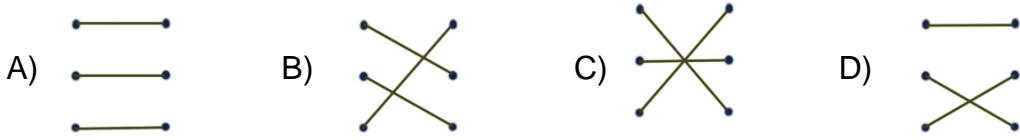
D) Ne zaman?

7. Aşağıdaki ifadelerin hangisinde tırnak işareti doğru kullanılmıştır?

- A) Dedem, yanına çağırdı ve “**Sen insanlara nasıl davranırsan onlar da sana öyle davranır.**” dedi.
- B) Annem hepimizi topladı ve ben çok yoruluyorum, “**Lütfen aramızda iş bölümü yapalım.**” dedi.
- C) Öğretmenim, kaç gündür senden haber alamıyoruz, “**Merak ettik.**” dedi.
- D) Mağaza sahibi, yine “**bekleriz**” efendim diyerek bizi uğurladı.

Akarsu ●	● birleşik
Kalemlik ●	● türemiş
Pencere ●	● basit

8. Yukarıdaki sözcükler türlerine göre eşleştirildiğinde oluşan şekil aşağıdakilerden hangisi gibi olur?



9. “Cimri kadın çocuğa yemek vermiyordu.” cümlesindeki “cimri” kelimesinin zıt anlamlısı olan kelime hangisidir?

- A) Fakir      B) Cömert      C) Nazik      D) Eli sıkı

**10. Aşağıdaki cümlelerin hangisinde kısaltmalara gelen eklerin yazımıyla ilgili yanlışlık yapılmıştır?**

- A) İTÜ'de okuyor.
- B) Babası TRT'de çalışıyor.
- C) 23 Nisan TBMM'in açılış günüdür.
- D) Kardeşim NATO'nun ne olduğunu sordu.

**11. Aşağıdaki cümlelerden doğru olanları "D", yanlış olanları "Y" kutucuğunu işaretleyiniz.**

D	Y	Yazıda cümlelerin ilk harfi büyük yazılır.
D	Y	Eş görevli sözcüklerin ayırmada nokta kullanılır.
D	Y	Bitmemiş cümlelerin sonuna üç nokta konur.
D	Y	Özel isimlere gelen çekim eklerini ayırmada kesme işareti kullanılır
D	Y	Satır sonuna sığmayan sözcükleri ayırmada uzun çizgi kullanılır.
D	Y	Bağlaç olan "ki" bitişik yazılır.

**12. Aşağıdaki kelimelerden hangisi terim anlamlıdır?**

- A) Arkadaş
- B) Kalem
- C) Nota
- D) Kutu

**13. Aşağıdakilerden hangisi sebep-sonuç cümlesidir?**

- A) Kristal bardakları ne kadara aldınız?
- B) Bu saatte açık market bulmamız çok zor.
- C) Yeni aldıkları koltuk takımı çok pahalıymış.
- D) Ekmekler fırından yeni çıktığından çok sıcaktı.

**14. Aşağıdakilerden hangisi hayal ürünüdür?**

- A) Sınıfta birdirbir oynayan çocuklara rastladık.
- B) Kanatlanmış çocuklar göklerde süzülüyordu.
- C) Ağzına kadar dolu bidonu yere devirdi.
- D) Manav avazı çıktığı kadar bağıırıyordu.

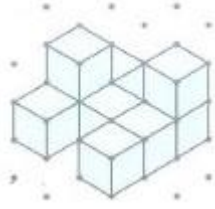
Çocuklar için spor,  
Açık temiz havada,  
Yaşına uygun hareketler,  
Yapmaktır sağlıcakla.

**15. Yukarıdaki dördlüğün ana duygusu aşağıdakilerden hangisidir?**

- A) Sporun faydası
- B) Bahar sevinci
- C) Çocuk sevgisi
- D) Yaşama sevinci

4.SINIF KONU KAZANIM KAVRAMA TESTİ  
MATEMATİK

1.



Yandaki şekilde kaç tane birim küp vardır?

- A) 11      B) 9      C) 8      D) 7

2. Aşağıdaki uzunluklardan en kısa olanı hangisidir?

- A) 200 mm      B) 200 cm      C) 2km      D) 20 m

3.




Bu saatteki akrep ile yelkovan arasındaki açı nasıl adlandırılır?

- A) Dik açı      B) Dar açı      C) Geniş açı      D) Doğru açı



4. Aşağıdakilerden hangisi verilen geometrik şeklin isimlendirmesi değildir?

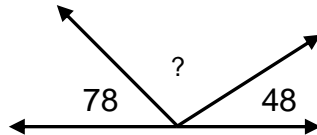


- A) BACD Dikdörtgeni                      B) CDBA Dikdörtgeni  
C) ABCD Dikdörtgeni                      D) BDCA Dikdörtgeni

5. Bir adımı 25 cm olan Yusuf, evden okula 40 adımda gitmektedir. Buna göre Yusuf'un evi ile okul arası kaç metre'dir?

- A) 100 m                      B) 1000m                      C) 100cm                      D) 10m

6. Aşağıdaki verilmeyen açığı hesaplayınız



7. Bir kenarı 80 m olan kare şeklindeki bahçenin çevresine 3 sıra tel çeken çiftçi kaç m tel kullanır?

A) 960

B) 320

C) 240

D) 750



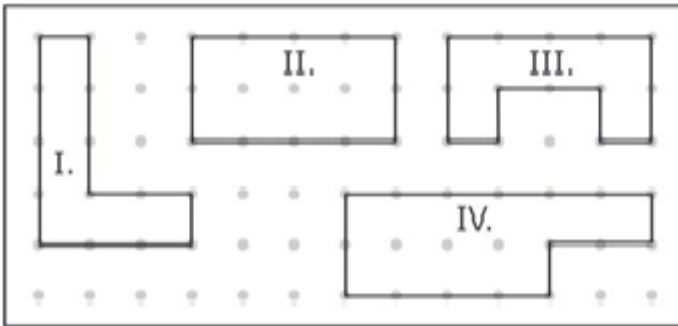
8. Yukarıdaki dikdörtgen ve karenin çevre uzunlukları birbirine eşittir. Dikdörtgenin kısa kenarı 20 cm ve uzun kenarı 38 cm olduğuna göre karenin bir kenarı kaç cm'dir?

A) 30

B) 29

C) 116

D) 58



9. Yukarıdaki şekillerin çevre uzunluklarını bulunuz.

10. Aşağıdaki dönüşümleri yapınız.

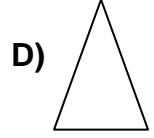

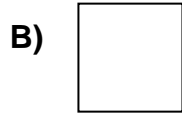
$$8 \text{ km} = \dots\dots\dots\text{m}$$

$$6 \text{ m } 8 \text{ cm} = \dots\dots\dots\text{cm}$$

$$14 \text{ 000 m} = \dots\dots\dots\text{km}$$

$$7 \text{ cm} = \dots\dots\dots\text{mm}$$

11. Aşağıdaki şekillerden hangisinin simetri doğrusu sayısı daha fazladır?



12. Uzunluk temel ölçü birimi aşağıdakilerden hangisidir?

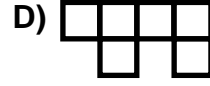
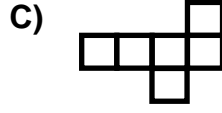
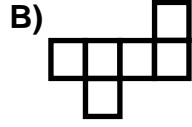
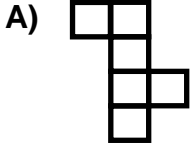
A) Gram

B) Litre

C) Santimetre

D) Metre

13. Aşağıdakilerden hangisi küpün açılımı değildir?



Dikdörtgenin – dik açı – üç – karenin – köşegeni

14. Aşağıda verilen cümleleri uygun ifadelerle tamamlayınız.

- A) Üçgenin .....yoktur.  
B) .....karşılıklı uzunlukları eşittir.  
C) Üçgenin .....açısı vardır.  
D) ..... tüm kenarları eşittir.  
E) Dikdörtgenin tüm açıları .....dır.

15. Aşağıdaki harflerin hangisinde açı yoktur?

- A) O                      B) T                      C) H                      D) K

**4.SINIF KONU KAZANIM KAVRAMA TESTİ**  
**SOSYAL BİLGİLER**

**1. Sosyal etkinliklerle ilgili olarak aşağıda verilen bilgilerden hangisi doğru değildir?**

- A) Sosyal yönlerimizi geliştirmez.
- B) Birlikte çalışma alışkanlığı kazandırır.
- C) Boş zamanlarımızı değerlendirmiş oluruz.
- D) Sorumluluk alma bilinci kazanırız.

**2. Aşağıdakilerden hangisi bağımsızlığımızın sembollerinden biri değildir?**

- A) Milli Marşımız
- B) Meclisimiz
- C) Okulumuz
- D) Bayrağımız

**3. Aşağıdaki ifadelerden doğru olanların başına (D) yanlış olanların başına (Y) yazınız.**

- A ( ) Beslenme, barınma temel ihtiyaçlarımız arasındadır.
- B ( ) İhtiyaçlarımızı erteleyemeyiz.
- C ( ) İnsanların zorunlu gereksinimleri isteklerdir.
- D ( ) Herkesin ihtiyacı farklı olabilir.
- E ( ) İsteklerimizi karşılayamadığımızda sağlığımız bozulur.

**4. Aşağıda verilen cümlelerde yer alan boşlukları verilen kelime ya da kelime gruplarından uygun olanlarla tamamlayınız.**

<b>TBMM</b>	<b>tam bağımsız</b>	<b>demokrasiyi</b>
<b>çocuklara</b>	<b>bireysel özgürlüğü</b>	<b>tarihimizi</b>

\* Mustafa Kemal, bağımsızlık ve milli egemenliğimizi geleceğimiz olan ..... armağan etmiştir.

\* 23 Nisan 1920'de ..... 'nin açılmasıyla Türk halkı kendi kararlarını vermeye başladı.

\* ..... olan kişiler, kendi seçimlerini yapabilir, düşüncelerini özgürce ifade edebilir.

\* Mustafa Kemal'e göre ..... ülkeler, başka ülkelere muhtaç olmayan ulusların ülkeleridir.

\* Bağımsızlığımızı korumak için ..... iyi öğrenmeliyiz.

5. Ayşe Hanım, aldığı tost makinesi bozuk çıkınca değiştirmesi için aldığı mağazaya götürdü. Mağaza sahibi, hatalı kullanım sonucu bozulduğunu ve geri alamayacağını söyledi.

**Ayşe Hanım aşağıdakilerden hangisini yaparsa bilinçli bir tüketici olduğunu anlarız?**

- A) Mağaza sahibiyle tartışıp kavga etmeli.
- B) Bir daha o mağazadan alışveriş yapmamalı
- C) Makineyi yere vurup parçalamalı.
- D) Şikâyetini Tüketici Hakları Derneği'ne bildirmeli.

6. Aşağıdakilerden hangisi okuldaki sosyal kulüplerin öğrenciye sağladığı faydalardan değildir?

- A) Dayanışma
- B) İşbirliği
- C) Hoşgörüsüzlük
- D) Bilgi ve beceri

7. "Satın aldığımız ürünlerin üzerinde ..... damgası dışında .... ve ..... gibi kalite ve güvenlik işaretleri de bulunabilir."

**Yukarıdaki boş bırakılan yerlere sırasıyla hangileri getirilirse doğru olur?**

- A) TL – CE – ISO
- B) TSE – CE – ISO
- C) TSE – TL – ISO
- D) TSE – CE – TL

**8. Ülkemizin bağımsızlığını korumak için;**

- I. Etkin vatandaş olmak
- II. Tarihimizi öğrenmek
- III. Ülkemizin kalkınması için çalışmak

**Davranışlarından hangisi ya da hangilerini yapmalıyız?**

- A) Yalnız I                      B) I ve II                      C) II ve III                      D) I, II ve III

9. “Çocuk Hakları Sözleşmesi.....Kasım1989’da Türkiye’nin de aralarında bulunduğu .....ülke tarafından imzalanarak1990’da yürürlüğe girmiştir.Her yıl 20.....günü bütün ülkelerde Dünya Çocuk Hakları Günü olarak kutlanır.

**Yukarıdaki bilgi de boşluklara gelmesi gereken sözcüklerin sıralaması aşağıdaki seçeneklerden hangisinde doğru verilmiştir?**

- A ) 20 – 142 – Kasım
- B ) Kasım – 20 – 142
- C) 20 – Kasım – 142
- D) 142 – 20 – Kasım

**10. Aşağıdakilerden hangisi okuldaki sorumluluklarımızdandır?**

- A) Diş fırçalamak                      B) Dersi dinlemek                      C) Oyun oynamak                      D) Ekmek almak



11. 23 Nisan 1920’de Türkiye Büyük Millet Meclisi’nin açılması ile aşağıdakilerden hangisi gerçekleşmemiştir?

- A) Egemenlik millete geçmiştir.
- B) Ülkemizin yönetim biçimi cumhuriyet olmuştur.
- C) Yeni bir devletin temelleri atılmıştır.
- D) Bağımsızlığımız için bir aşaması gerçekleşmiştir

12. “Deniz, kendisinin araştırmaya, yeni icatlara, elektronik aletlere ilgisinin olduğunu fark etmiştir.”

**Buna göre Merve okulundaki hangi sosyal kulübü seçmelidir?**

- A) Fotoğrafçılık
- B) İzcilik
- C) Gazetecilik
- D) Bilim Fen ve Teknoloji

13. Çocukların korunmasında birinci dereceden sorumlu olan aşağıdakilerden hangisidir?

- A) Öğretmenler
- B) Devlet
- C) Aileleri
- D) Polis

**14. Bir öğrenci aile bütçesine ne şekilde katkıda bulunur?**

- A) Bir işte çalışarak.
- B) Tutumlu davranarak.
- C) Ailesinden hiçbir istekte bulunmayarak.
- D) Kırtasiye masrafı yapmayarak.

**15. “Yavru Vatan” olarak bilinen ve başkenti Lefkoşa olan Türk Devleti aşağıdakilerden hangisidir?**

- A) Kuzey Kıbrıs Türk Cumhuriyeti (KKTC)
- B) Ermenistan
- C) Nahcivan
- D) Gürcistan

## 4.SINIF KONU KAZANIM KAVRAMA TESTİ

### FEN BİLİMLERİ

1. Sesin gürültüye neden olan özelliği aşağıdakilerden hangisidir?

- A) Yakınlık                      B) Kalınlık                      C) Şiddet                      D) Ritim

2. Aşağıda verilen araçlardan hangisi sesin şiddetini arttırmak için kullanılmaz?

- A) Megafon                      B) Stetoskop                      C) İşitme cihazı                      D) Fonograf

3. Aşağıdakilerden hangisi insanların duyamadığı titreşimlerle çalışır?

- A) Mikrofon                      B) Ultrasonografi                      C) Korna                      D) Hoparlör

4. 1. Gaz lambası                      2. Floresan lamba                      3. Led lamba

4. Kandil                      5. Meşale                      6. Ampul

Yukarıda verilen aydınlatma araçlarının geçmişten günümüze sıralanması nasıl olmalıdır?

- A) 1 – 3 – 2 – 4 – 5 – 6                      B) 5 – 4 – 1 – 6 – 2 – 3  
C) 6 – 4 – 5 – 1 – 3 – 2                      D) 4 – 5 – 6 – 2 – 3 – 1



Meşale



Gaz lambası



Ampul



Mum



Güneş

5.

**Yukarıdakilerden kaç tanesi taşınabilir ışık kaynağıdır?**

A) 5

B) 4

C) 3

D) 2

6.

- Jet uçağı sesi
- Şelale sesi
- İş makinesi sesi
- \* Kuş sesi
- \* Siren sesi
- \* Dalga sesi

**Yukarıdakilerden hangilerini uzun süre dinlediğimizde kulak sağlığınıza zarar verir?**

A) Siren sesi, kuş sesi, iş makinesi sesi

B) Dalga sesi, kuş sesi, jet uçağı sesi

C) Jet uçağı sesi, iş makinesi sesi, siren sesi

D) Kuş sesi, şelale sesi, dalga sesi

**7. Aşağıdakilerden hangisi çevreyi kirletmez?**

A) Fabrika atıkları

B) Yapraklar

C) Piller

D) Plastik şişeler

**8. Aşağıdaki ifadelerden hangisi yanlıştır?**

- A) Çok yüksek ses daha iyi duymamızı sağlar.
- B) Ses bir enerji türüdür.
- C) Hayvanların çıkardığı bazı sesleri duyamayız.
- D) Ses kaynağından uzaklaştıkça ses azalır.

**9. Aşağıdaki ifadelerden doğru olanların başına (D) yanlış olanların başına (Y) yazınız.**

- A) ( ) Yukarı doğru ışıklandırılmış sokak lambaları ışık kirliliğine neden olmaz.
- B) ( ) Uygun aydınlatmada çok sayıda ışık kaynağı kullanılmalıdır.
- C) ( ) Mağazaların gece aydınlatmaları azaltılmalıdır.
- D) ( ) Ambulansta kullanılan siren sesi uyarı amaçlıdır.
- E) ( ) Gürültülü iş yerlerinde kulaklık kullanmalıyız.

**10. Aşağıdakilerden hangisi ses kirliliğinin sebep olduğu durumlardan değildir?**

- A) Kulak çınlaması
- B) Dikkat dağınıklığı
- C) Gerginlik
- D) Bronşit

11.

fonograf	işitme cihazı	Ses kirliliği
geri dönüşüm	Pil	tutumluluk

**Aşağıdaki boşlukları verilen kelimelerden uygun olanları ile tamamlayınız.**



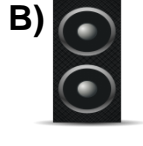
- A) Hoşa gitmeyen ve insanlar üzerinde olumsuz etki yapan seslere .....denir.
- B) Atıklardan değerlendirilebilir olanların çeşitli yöntemlerle ham maddeye dönüştürülerek tekrar kullanılmasına ..... denir.
- C) Sesin kaydedilip tekrar dinlenilmesini sağlayan ..... Thomas Edison tarafından bulunmuştur.
- D) Duyma problemi yaşayan insanlar ..... kullanırsa hayatları kolaylaşır.
- E) Kaynakların gerektiğinde ihtiyaç olduğu kadar kullanılmasına ..... denir.

12.Salonumuzun bir köşesindeki televizyonun sesini salonun her yerinden duyabiliriz.

**Buna göre sesle ilgili verilen bilgilerden hangisi doğrudur?**

- A) Ses, her yöne dalgalar halinde yayılır.
- B) Ses, tek yönde doğrusal yayılır.
- C) Ses. İki yönde yayılır.
- D) Ses yayılmaz.

13. Aşağıdakilerden hangisi sesin şiddetini arttırmaz?



14. Aşağıdaki ses teknolojisi ile ilgili araçlardan hangisinin kullanım zamanı diğerlerinden daha öncedir?

A) Kaset

B) CD

C) MP3 çalar

D) Gramofon

15. Aşağıdakilerden hangisi doğal ses kaynaklarındandır?

A) Evde kafeste beslenen kuşun sesi

B) Trafikteki arabaların korna sesi

C) Okulda teneffüs için çalan müzik sesi

D) Yol yapım çalışmasındaki makine sesi

**4.SINIF KONU KAZANIM KAVRAMA TESTİ**  
**İNGİLİZCE**

1- "Put on your ....." "

Aşağıdaki resme göre boşluk yere hangi kelime gelmelidir?

A) Dress

B) t-shirt

C) shirt

D) hat



2- Aşağıdakilerden hangisi farklıdır?

A) Goggles

B) Sofa

C) Microscope

D) Test tube

3- What time is it?

A) It is half past nine

B) It is half past eleven

C) It is ten o'clock

D) It is half past ten





4- What is this?

It is a .....

- A) Cup
- B) Toothbrush
- C) Bottle
- D) Goggles



5- What season is it?

It is summer

Yukarıdaki konuşmaya göre bahsedilen mevsimi işaretleyiniz.

A)



B)



C)



D)



6-Aşağıda verilen görsellerin hangisinin İngilizcesi yanlış verilmiştir?



SCHOOL



RESTAURANT



THEATRE



HOSPITAL

7- What is the weather like?

It's .....



A) windy

**B) sunny**

C) rainy

**D) snowy**

8) Winter months are December , ..... ,February.

- A) March                      B) January                      C) July                      D) September

9.-We are pilots.We work at a.....

- A) airport  
B) Farm  
C) factory  
D) hospital



10- Ayşe is a teacher.She likes..... .

- A) teaching childrens  
B) dancing  
C) examining patients  
D) cooking





4. 610 yılının Ramazan Ayının Kadir Gecesinde vahiy meleği Cebrail(a.s) peygamberimize Alak Suresinin ilk ayetlerini getirdi.

**İlk ayetler hangi emirle başlamaktadır?**

A) Yaz

B) Oku

C) Oruç tut

D) Elbiseni temizle

5. 622 yılında Mekke'den Medine' ye hicret (göç) eden Müslümanlara ..... denir.

**Yukarıdaki boşluğa aşağıdaki kelimelerden hangisi getirilmelidir?**

A) Muhacir

B) Ensar

C) Mücahid

D) Sahabe

Peygamberimiz Medine 'ye hicret ettikten sonra ilk iş olarak bir mescid yaptırdı. Buna Mescid-i Nebi denir.

**6. Mescid-i Nebi'nin bitişiğine yoksul ve kimsesiz Müslümanların barınmaları ve eğitim öğretim görmeleri için yapılan odalara ne ad verilir?**

A)Suffe

B)Ashap

C)Meclis

D)Kabile

7. Hz. Muhammed(s.a.v) 630 yılında Mekke'yi fethedince kendisine eziyet eden Mekkeli müşrikleri bağışladı. Onlardan intikam almadı. **Bu durum O'nun hangi yönüne işaret eder?**

A)Çalışkan olması

B)Affedici olması

C)Sabırlı olması

D)Cömert olması

8. Peygamberimiz 632 yılında Veda Haccını yapmak için Mekke'ye geldi. Burada bütün insanlığı ilgilendiren bir konuşma yaptı. Bu konuşmaya Veda Hutbesi denir.

**Aşağıdakilerden hangisi Veda Hutbesinde değinilen konulardan değildir?**

- A)Alah'tan başka ilah yoktur. Muhammed O'nun kulu ve elçisidir.
- B)Bütün insanlar eşittir.
- C) Haksızlık etmeyin, haksızlığa uğramayın.
- D) )Kadınların ve kölelerin hiçbir hakkı yoktur.

9. **Aşağıdakilerden hangisi peygamberimizin çocukluk ve gençlik yıllarında gösterdiği davranışlardan biri olamaz?**

- A) Verdiği sözleri yerine getirirdi.
- B) Kibirden, kıskançlıktan, cimrilikten uzak dururdu.
- C) Kötülük yapanlara destek olurdu.
- D) İnsanları kötü lakaplarla çağırmaırdı.

I. Hz. Muhammed'in(s.a.v) soyu Hz. İbrahim'in(a.s) oğlu Hz. İsmail'e(a.s) dayanır.

II. Hz. Muhammed(s.a.v) 632 de Medine ' de vefat etmiştir.

III. Hz. Muhammed'in(s.a.v) Veda Hutbesi bütün insanlığı ilgilendiren temel ilkeler içerir.

10. **Yukarıda verilen bilgilerden hangisi ya da hangileri doğrudur?**

- A) Yalnız I
- B) I ve II
- C) I ve III
- D) I, II ve III

