



**İLKOKULLARDA  
UZAKTAN EĞİTİM  
SÜRECİNDE  
KAZANIM  
KAVRAMA  
ÇALIŞMASI  
2.HAFTA  
TESTLERİ**



#sakaryacevrimici  
#hayatevesiğar

**BU KİTAPÇIKTA**

**TÜRKÇE 10 SORU**

**MATEMATİK 10 SORU**

**HAYAT BİLGİSİ 10 SORU**

**YER ALMAKTADIR**

Bu çalışmada yer alan Toki İlkokulu, Atatürk İlkokulu, Selçukbey İlkokulu, Mehmet Zorlu İlkokulu idareci ve öğretmenlerine teşekkürler...

**SAKARYA MEM**

2020



4. “ k- e- r- t- o” harflerini bir kez kullanarak ařağıdaki kelimelerden hangisini yazabiliriz?

A) rekor

B) raket

C) roket

5. “yemek- Hayri – sever- yemeyi”

Yukarıdaki sözcüklerle yazılabilecek anlamlı ve kurallı cümle hangisidir?

A) Sever Hayri yemek yemeyi.

B) Hayri yemek yemeyi sever.

C) Yemek yemeyi sever Hayri.

6. “Yemekten sonra ellerimizi .....

Yukarıdaki cümleyi hangi sözcük ile tamamlamalıyız?

A) fırçalamalıyız

B) boyamalıyız

C) yıkamalıyız

7. “Marketten ekmek( ) süt ( ) peynir ve limon aldım( )”

Yukarıdaki cümlede kaç tane virgöl kullanılmalıdır?

- A) 2                      B) 3                      C) 1

8. Aşağıdaki cümlelerin hangisinin sonuna soru işareti gelmez?

- A) Okullar ne zaman açılacak  
B) Öğretmenimi nerede görsem tanırım  
C) Okulunu özledin mi



9. Yandaki görseli en iyi anlatan cümle hangisidir?

- A) Mehmet amca ağacın dalını kırıyor.  
B) Mehmet amca ağaç dikiyor.  
C) Mehmet amca keyifle ağaç suluyor.



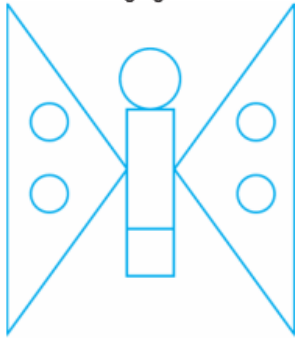
**10. Aşağıdaki cümlelerden hangisi bize "sağlık" kelimesini çağrıştırır?**

A) Elbise diktirmek istiyorum.

B) Oyundan dönünce ellerimi yıkarım.


C) Aşılarımı düzenli yaptırırım.

1.SINIF KONU KAZANIM KAVRAMA TESTİ  
MATEMATİK



1. Yukarıdaki şekille ilgili aşağıda verilen bilgilerden hangisi yanlıştır?

- A) Bu kelebekte 2 tane üçgen şekli vardır.  
B) Bu kelebekte 2 tane dikdörtgen vardır.  
C) Bu kelebekte 5 tane çember vardır.

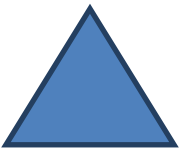


2. Yukarıda verilen karenin köşelerinde bulunan çiçekleri boyamak isteyen Tuna'nın kaç tane çiçeği boyaması gerekir?

- A) 3                      B) 8                      C) 4

3. Aşağıdakilerden hangisinin kenar sayısı diğerlerinden farklıdır ?

A)



B)



C)



4.




Hangisi yandaki Őeklin 6zelliklerinden deđildir?

A) 4 kenarı vardır.

B) Bütün kenar uzunlukları eŐittir.

C) 4 k6Őesi vardır.

5. Yandaki zarfı oluŐturan Őekillerin iŐinde hangisi yoktur?



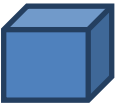
A) Daire

B) Dikd6rtgen

C) 6Őgen

6. Hangi geometrik cisim ile  ember  izebiliriz?

A)



B)



C)

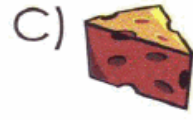
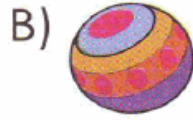







7. Yandaki geometrik cismi kullanarak hangi şekli çizebiliriz?




8. Aşağıdaki nesnelere hangisi köşeli değildir?




9. Aşağıdaki örüntüde soru işaretli yere hangisi gelmelidir?





10. Yukarıdaki örüntüyü bozan şekil hangisidir?



# 1.SINIF KONU KAZANIM KAVRAMA TESTİ

## HAYAT BİLGİSİ

1. Mahalleyi yöneten kimdir?

A) Muhtar

B) Kaymakam

C) Vali



İlçe



İl



Köy

2. Yukarıdaki yerleşim yerlerinin, büyükten küçüğe doğru sıralanışı hangi seçenektir?



3. Mustafa Kemal Atatürk'ün anıt mezarı Anıtkabir nerede bulunmaktadır?

A) İstanbul

B) Samsun

C) Ankara

**4. İstiklal Marşı'mızın şairi kimdir?**

- A) Mehmet Akif Ersoy      B) Mustafa Kemal Atatürk      C) İsmet İnönü


**5. Mustafa Kemal Atatürk 23 Nisan tarihindeki milli bayramımızı kimlere armağan etmiştir?**

- A) Yaşlılara      B) Gençlere      C) Çocuklara

**6. Cumhuriyet Bayramı her yıl hangi tarihte kutlanmaktadır?**

- A) 19 Mayıs      B) 29 Ekim      C) 23 Nisan

**7. Aşağıdaki hangi görselde dini bayramımız kutlanmaktadır?**



8)Aşağıdakilerden hangisi bağımsızlığımızın sembolüdür?

- A) Bayrağımız      B) Türkülerimiz      C) Ordumuz

9)Hangi tarihi eser ülkemizde değildir?


A) Topkapı Sarayı



B) Göbeklitepe



C) Eyfel Kulesi



10. Ülkemize göç eden insanlara nasıl davranmamalıyız?

A) Oyunlarımıza almamız.

B) Kaba davranmalıyız.

C) Yardımcı olmalıyız.