



**İLKOKULLARDA
UZAKTAN
EĞİTİM
SÜRECİNDE
KAZANIM
KAVRAMA
ÇALIŞMASI**

#sakaryacevrimici

#hayatevesiğar



BU KİTAPÇIKTA

TÜRKÇE 15 SORU

MATEMATİK 15 SORU

SOSYAL BİLGİLER 15 SORU

FEN BİLİMLERİ 15 SORU

İNGİLİZCE 10 SORU

DKAB 10 SORU

YER ALMAKTADIR

Bu çalışmada yer alan Toki İlkokulu, Atatürk İlkokulu, Selçukbey İlkokulu,
Mehmet Zorlu İlkokulu idareci ve öğretmenlerine teşekkürler...

SAKARYA MEM
2020

4.SINIF KONU KAZANIM KAVRAMA TESTİ

TÜRKÇE

Alya, perdenin kenarından sızan ışık yüzüne vurunca hemen uyandı. Yatağından sevinçle kalkarak pencerenin yanına koştu. Önce perdeyi sonra da pencereyi açtı. Yeni doğan Güneş, ışıl ışıl dünyaya gülümserken kuşlar da civıltılarıyla doğayı uyandırmaya çalışıyordu... Gözlerini kapatıp mis gibi havayı defalarca içine çekti. Bu güzel pazar gününü ailesiyle dolu dolu yaşamak için hemen bir plan yapması gerektiğini düşündü.

1.2. ve 3. soruları yukarıdaki paragrafa göre cevaplayınız.

1. Hangi durum Alya'nın uyanmasına neden olmuştur?

- A) Ani bir tıkırtı duymuştur.
- B) Perde kenarından sızan ışık yüzüne vurmuştur.
- C) Annesi Alya'ya seslenmiştir.
- D) Kuşların civıltılarından uyanmıştır.

2. Alya yatağından nasıl bir duyguyla kalkmıştır?

- A) Merakla
- B) Heyecanla
- C) Endişeyle
- D) Sevinçle

3. Doğayı uyandırmaya kimler çalışmaktadır?

- A) Güneş
- B) Kuşlar
- C) Alya
- D) Yıldızlar

4. Aşağıdaki ifadelerin hangisinde “de” doğru yazılmıştır?

- A) Seninle okulun kapısın da buluşuruz.
B) Bugün okul da şiir okuma yarışması yapacağız.
C) Bizim mahalle de herkes çevre kirliliğine karşı duyarlıdır.
D) Öğretmenimiz, kitapların da bizimle arkadaşlık edebileceğini söyledi.

**Sen bana Atalarımın emanetsin,
Gökyüzünü dalga dalga süslersin.
Ay yıldızın kırmızıya sarılmış,
Yüreğimin en güzel yerindesin.**

5. Yukarıdaki dördlüğün ana duygusu hangisidir?

- A) Vatan sevgisi B) Bayrak sevgisi
C) Gökyüzü sevgisi D) Ata sevgisi

6. Aşağıdaki sözcüklerin başındaki numaraları sözcüklerin anlamlarının başına yazınız.

I. kuşku II. sürgün III. çağdaş IV. nasip

(.....) Birinin hakkına düşen pay.

(.....) Yaşadığı dönemin gerektirdiği davranışları ve anlayışı gösterme, modern.

(.....) Bir duruma karşı oluşan güvensizlik.

(.....) Birini ceza olarak bulunduğu yerden başka bir yere gönderme.

7. Aşağıdaki cümlelerde altı çizili sözcükler dilimize girmiş yabancı sözcüklerdir. Bu sözcüklerden hangisinin yerine “tarafsız” sözcüğü getirilebilir?

- A) Bu konunun aydınlığa kavuşması için objektif fikirlere ihtiyacımız var.
- B) Bu aletin fonksiyonları bizim için yeterli değil.
- C) Bizim jenerasyon bilgisayar oyunları yerine arkadaşlarıyla bahçede oynamayı tercih ederdi.
- D) Seninle bu akşam internetten online görüşebilir miyiz?

8.Aşağıdakilerden hangisinde nesnel bir yargı vardır?

- A) Tatili çok severim.
- B) Pastanın tadı çok güzel.
- C) Radyo işitsel bir yayın aracıdır.
- D) Test çözmek zevklidir.

9. Aşağıdaki kelimeleri alfabetik olarak sıraladığımızda baştan 2.kelime hangisi olmalıdır?

- A) Toka
- B) Tayfa
- C) Tavır
- D) Tekne

10. Aşağıdaki cümlelerin hangisinde “kara” kelimesi mecaz anlamda kullanılmıştır?

- A) Gemi karaya yanaştı.
- B) Kara haber tez duyulur.
- C) Dört tarafı suyla çevrili kara parçası adadır.
- D) Kara gözlü kuzuya su verdim.

11. Aşağıdaki cümlelerin hangisinde eş sesli kelime kullanılmıştır?

- A) Sınıf çok temizdi.
- B) Çay içmeyi severim.
- C) Çevremizi kirletmemeliyiz.
- D) Ödevini yaptın mı?

12. “Çocuk() adama uzunca baktı() Ardından () Beni tanıyor musun ()” diye sordu.

Yukarıdaki cümlede yay ayraç ile gösterile yerlere sırasıyla hangi noktalama işaretleri gelmelidir?

- A) (.) (,) (“) (?)
- B) (,) (.) (!) (.)
- C) (,) (.) (“) (?)
- D) (“) (!) (.) (?)

13. "Çocuğun arkadaşlık ilişkileri son derece ölçülüdür. Herkesle barış halindedir."

Cümlesindeki "barış" kelimesi hangi anlamda kullanılmıştır?

A) Yaklaşık

B) Çok fena

C) Uyum

D) Hemen hemen benzer

14. Aşağıdaki cümlelerin hangisinde gelecek zamana ait eylem vardır?

A) Resim yapmayı çok severim.

B) Uçakla İstanbul'a gideceğim.

C) Okuldan erken geldi.

D) Her yaz tatile gideriz.

15. Aşağıdaki cümlelerin hangisinde anlatım bozukluğu vardır?

A) Bahçede bulduğu anahtarı müdüre verdi.

B) Bebeğin, kara siyah gözleri vardı.

C) Küçük kız, yavaşça içeri girdi.

D) Yumuşacık yeri bulunca, kedi oraya kıvrılıverdi.

4.SINIF KONU KAZANIM KAVRAMA TESTİ
MATEMATİK

1. Aşağıdakilerden hangisi en büyük dar açıdır?

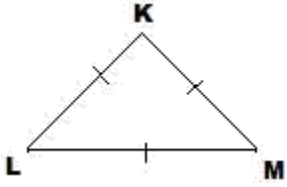
- A) 90° B) 45° C) 91° D) 89°

2. Bir açısının ölçüsü 95° olan bir üçgen aşağıdakilerden hangisidir?

- A) Geniş açılı üçgen B) Dar açılı üçgen
C) Dik açılı üçgen D) Doğru açılı üçgen

3. Aşağıdakilerden hangisi düzlem modeli değildir?

- A) Halı B) Yapboz parçası
C) Yapboz D) Duvar

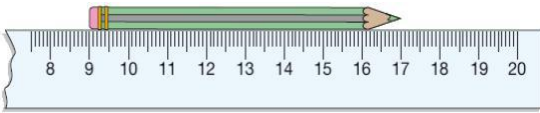


4. Yukarıdaki üçgende KL uzunluğu 6 cm ise bu üçgen için aşağıdakilerden hangisi söylenebilir?

- A) Çeşitkenar üçgen B) Eşkenar üçgen
C) İkizkenar üçgen D) Geniş açılı üçgen

5. 2 metre kumaşın $\frac{3}{4}$ 'ü satıldı. Geriye kaç santimetre kumaş kalır?

- A) 200 B)150 C) 100 D) 50



6. Yukarıdaki kalemin boyu kaç milimetre'dir?

- A)17 B)8 C)80 D)170

7. Aşağıda verilen noktalı yerlere (kilometre, metre, santimetre ve milimetre) birimlerinden sırasıyla hangileri gelir?

- Sakarya ile Ankara arası uzaklığı ile ölçeriz.
- Evimizin duvarının yüksekliğini ile ölçeriz.
- Gözlük camının kalınlığını ile ölçeriz.
- Kalemimizin uzunluğunu ile ölçeriz.

- A) kilometre, milimetre, metre, santimetre
B) kilometre, metre, milimetre, santimetre
C) kilometre, santimetre, metre, milimetre
D) metre, kilometre, milimetre, santimetre

8. $\frac{5}{6}$ $\frac{6}{6}$ $\frac{2}{6}$ $\frac{1}{6}$ kesirlerini büyükten küçüğe doğru sıraladığımızda hangi kesir 2.sırada yer alır?

- A) $\frac{1}{6}$ B) $\frac{6}{6}$ C) $\frac{2}{6}$ D) $\frac{5}{6}$

9. Alper k kitabının $\frac{3}{5}$ 'ünü okumuştur. Alper kitabını bitirmek için daha kaçta kaçını okumalıdır?

- A) $\frac{1}{5}$ B) $\frac{2}{5}$ C) $\frac{3}{5}$ D) $\frac{4}{5}$

10. Aşağıdakilerden hangisi yanlıştır?

A) $1\text{ m} + 10\text{ cm} = 110\text{ cm}$

B) $1\text{ kg} + 500\text{ g} = 2000\text{ g}$

C) $180\text{ dakika} = 3\text{ saat}$

D) $120\text{ saniye} = 2\text{ dk}$

11. Günde 30 dk. ders çalışan bir öğrenci 1 ayda kaç dk. ders çalışmış olur?

A) 600 dk.

B) 900 dk.

C) 800 dk.

D) 1000 dk.

12. Dört basamaklı rakamları birbirinden farklı en büyük tek sayının 289 eksiği kaçtır ?

A) 9587

B) 9586

C) 9710

D) 9709

13. ABCD olarak adlandırılan bir karenin kenarlarından biri değildir ?

A) [AB]

B) [BC]

C) [CD]

D) [AC]

14. Aşağıdaki ifadelerden hangisi yanlıştır?

- A) Dikdörtgenin 2 köşegeni vardır.
- B) Karenin 2 köşegeni vardır.
- C) Üçgenin 3 köşegeni vardır.
- D) Karenin 4 köşesi vardır.

15. Ben 13 yaşındayım. Ablam benden 3 yaş büyük, kardeşim ise benden 2 yaş küçüktür. 2 yıl sonra yaşlarımız toplamı kaç olur?

- A)46
- B)56
- C)40
- D)50

4.SINIF KONU KAZANIM KAVRAMA TESTİ

SOSYAL BİLGİLER

1. Aşağıdaki cümleleri verilen sözcüklerden uygun olanı ile tamamlayınız

İlgi yeteneklerini - motorlu uçak - garanti belgesini - doğal afet - dağlar

1. Bilinçli tüketici aldığı malın ister ve onaylatır.
2. Amerikalı Wright kardeşler tarafından ilk.....yapıldı.
3. Fiziki haritalarda kahverengi ile gösterilir.
4. Okullarda kurulan sosyal kulüpler öğrencilerin ve..... tanıyıp geliştirmelerine yardımcı olur.
5. Aniden gelişen, can ve mal kaybına yol açabilen doğa olaylarınadenir.

2. Aşağıdaki ifadelerden doğru olanların başına (D) yanlış olanların başına (Y) yazınız.

- A () Teknolojik ürünlerin hiçbir zararlı etkisi yoktur.
- B () Aile bütçesine katkıda bulunmak için bizler de bir işte çalışmalıyız.
- C () Adığımız ürünlerin hatalı çıkması durumunda Tüketici Hakem Heyeti başvurabileceğimiz yerlerden birisidir.
- D () Yatağımızı toplamak aile içindeki sorumluluklarımızdandır.
- E () Çocuk Hakları Sözleşmesine göre 15 yaşından küçük herkes çocuk sayılır.

3.Aşağıdaki ürünlerden hangisi temel ihtiyaçlarımızdan biridir?



4.Aşağıda verilen bilgilerden hangisi doğru değildir?

- A) Marangoz, inşaat ustası, terzi gibi meslek sahipleri üretim alanında çalışırlar
- B) Avukat, doktor, kuaför gibi meslek sahipleri hizmet alanında çalışırlar
- C) Bazı meslekler önemli değildir
- D) İnsanlar ham maddeleri fabrikalarda işleyerek yeni ürünler üretirler.

5. Ailede günlük hayatın düzenli şekilde yürümesi için bizlerin de yerine getirmemiz gereken sorumluluklarımız vardır. Aşağıdakilerden hangisi ailede yerine getirmemiz gereken sorumluluklardan birisi değildir?

- A) Odamızı temiz tutmak.
- B) Kaynakları tutumlu kullanmak.
- C) Uygun bir işte çalışarak ailenin geçimine katkı sağlamak.
- D) Evde belirlenen kurallara uymak.

6. Sorumluluk sahibi olan bir birey aşağıdakilerden hangisini yapmaz?

- A) Kendi kararlarını verirken başkalarının haklarını da gözetir.
- B) Hak ve sorumluluklarını bilir.
- C) Sözlerinin etkisini düşünerek konuşur.
- D) Her yerde kendi yararını gözetir.

7. Aşağıdaki cümlelerden hangisi yanlıştır?

- A) 18 yaşına kadar her insan çocuktur.
- B) Çocuklar bir işte çalışarak aile bütçesine katkıda bulunmalıdır.
- C) Her çocuğun iyi beslenmeye, sıcak bir yuvaya ve bir aileye ihtiyacı vardır.
- D) Dili, dini, rengi, ve ırkı ne olursa olsun ayırım gözetmeksizin bütün çocuklar aynı haklara sahiptir.

8. Canan, nasıl davranırsa bilinçli tüketiciye uygun bir davranış sergilemiş olmaz?

- A) Aynı kalitedeki ürünlerden ucuz olanı tercih eder.
- B) Alışverişe çıkmadan önce araştırma yapar.
- C) Ambalajlı gıdaların üretim ve son kullanma tarihine bakmaz.
- D) Satın aldığı ürünlerin üzerinde TSE dışında CE ve ISO gibi kalite ve güvenlik işaretlerinin bulunmasına dikkat eder.

9. Aşağıdaki sembol ve anlamı eşleştirildiğinde doğru eşleştirme hangisi olur?

K -ISO 9001

1. Türk Standartları Enstitüsü

L -- 

2. Uluslararası standart organizasyonu

M- 

3 . Avrupa Birliği standartları

N- CE

4 Geri dönüşüm

A) K-2 L-4 M-1 N-3

B)K-3 L -1 M -2 N-4

C) K-2 L-3 M-1 N-4

D)K-1 L-2 M-3 N-4

“Ayağını yorganına göre uzat.”

10. Yukarıdaki atasözü aşağıdakilerden hangisi ile ilgilidir?

A) Sorumluluk

B) Tutumluluk

C) İnsan Sevgisi

D) Düşünceye Saygı

11. Aşağıdakilerden hangisi öğrencilerin okuldaki sorumluluklarından biri olamaz?

- A) Derse zamanında gelmek.
- B) Okul eşyalarını korumak.
- C) Arkadaşlarına ve öğretmenlere saygılı davranmak.
- D) Sınıfları temizlemek.

12. İnsanların teknolojik ürünlere sahip olmak istemelerinin temel sebebi aşağıdakilerden hangisi olabilir?

- A) Reklamlardan etkilenmeler
- B) Teknolojik ürün olmaları
- C) Eğlenceli olmaları
- D) Hayatımızı kolaylaştırması

13. Aşağıdakilerden hangisi sağlık alanında kullanılan teknolojik ürünlerdendir?

- A) Röntgen cihazı
- B) Projeksiyon
- C) Faks
- D) Tepegöz

14.17. yüzyılda kollarına kanat takarak ,Galata kulesinden atlayarak İstanbul Boğazı'nı geçen geçen Türk bilgini kimdir?

- A) İbni Sina B) Hezarfen Ahmet Çelebi C) Evliya Çelebi D) Mimar Sinan

15. Aşağıdakilerden hangisi kaynaklarımızı israf etmeden kullanmaya örnek bir davranış değildir?

- A) Defterin sayfalarını atlayarak kullanmak
B) Bayat ekmekleri ısıtıp yemek
C) Ders araç-gereçlerimizi özenli kullanmak
D) Elimizi yıkarken suyu az açmak

4.SINIF KONU KAZANIM KAVRAMA TESTİ
FEN BİLİMLERİ

1.

- () Demir tozu ve kum karışımı süzme yöntemiyle ayrıştırılabilir.
- () Katı maddeler ısı vererek donar.
- () Kolonya bir karışım örneğidir.
- () Altın,gümüş,demir gibi maddeler saf maddelerdir.
- () Maddenin boşlukta kapladığı yere hacim denir.

Yukarıda verilen bilgilerin doğru-yanlış sıralaması aşağıdakilerden hangisidir?

- A) D-Y-Y-D-D
- B) Y-Y-Y-D-Y
- C) Y-Y-D-D-D
- D) Y-Y-D-D-Y

2. Biri sıcak diğeri soğuk iki madde temas ettiği zaman aşağıdakilerden hangisi gerçekleşmez?

- A) Sıcak maddede ısı kaybı olur.
- B) Soğuk maddede ısınma olur.
- C) Sıcak maddenin sıcaklığı düşer.
- D) Isı soğuk maddeden sıcak maddeye doğru akar.

3. Aşağıdaki sorulara cevap verdiğimizde hangisinin cevabı hayırdır?

- A) Kuvvet,hareketli cisimlerin yönünü değiştirebilir mi?
B) Duran cismin harekete geçmesi için kuvvet gerekli midir?
C) Temas olmaksızın etki eden kuvvetler var mıdır?
D) Bir kuvvet her cismi harekete geçirebilir mi?

4. Ses teknolojileri ile ilgili;



Önce sesin iletimi gerçekleştirildi.



Plaklar sesin kaydedilmesi ve dinlenmesi için tasarlanmıştır.



Radyolar kaydedilen sesin dinlenmesi için tasarlanmıştır.

Yukarıdaki bilgilerden hangileri doğrudur?

A)Yalnız

B) ve

C) ve

D) ve

5. Işığın yanlış yerde, yanlış miktarda, yanlış zamanda kullanılmasına ne denir?

- A) Işık kirliliği B) Ses kirliliği C) Gürültü D) Parlak ışık

6. Aşağıdakilerden hangisi ısı aldığında farklı bir hâle geçer ?

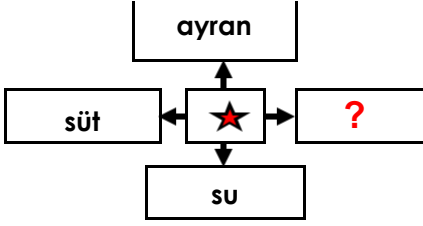
- A) Su B) Dondurma C) Tereyağı D) Buz

7. Semih ,yapacağı deneyde; bulunduğu kabı tamamen dolduracak akışkan bir madde arıyor.

Buna göre Semih deneyinde aşağıdakilerden hangisini kullanmalıdır?

- A) Taş B) Buz
C) Oksijen D) Kum

8. İşareti sıvı maddeleri gösterdiğine göre boş kutucuğa hangi sözcük getirilmelidir?



- A) Buz
B) Kum
C) Kolonya
D) Su buharı

9. Havada bulunan su buharına ne denir?

- A) Çiy
B) Kırağı
C) Nem
D) Yağmur



10.

Yandaki deneyde ısıtılan buzun hangi özelliği değişir?

A) Rengi

B) Tadı

C) Fiziksel hali

D) Kokusu



500 g



10 kg

11. Bir sepet yumurta 10kg gelmektedir. Sepetin darası 500g olduğuna göre elmaların net kütle kaç g'dır?

A) 10500 g

B) 9500 g

C) 490 g

D) 510 g

12. Aşağıda verilen karışımlardan hangisi süzme yöntemi ile ayrılabilir?

A) Şekerli su

B) Makarna su

C) Deniz tuzu

D) Tuzlu ayran



Pilav



Su



Gümüş



Süt

13. Başka maddelerle karışmamış, içeriğinde kendisinden başka madde bulunmayan maddelere saf madde denir.

Yandaki maddelerden hangisi saf maddeye örnek olamaz?

- A) Pilav
C) Süt

- B) su
D) gümüş

I. Göçmen kuşların yönlerini şaşırması.

İİ. Yumurtadan çıkan kaplumbağaların deniz yerine farklı yöne gitmesi

III. Ağaçların yanlış zamanda çiçek açması.

14. Işık kirliliği doğal hayatı olumsuz etkiler. Yukarıdakilerden hangileri buna örnek gösterilebilir?

A) II-III

B) I-III

C) I -II

D) I-II-III

15. Aşağıdakilerden hangisinin çıkardığı ses doğaldır?

A) Köpek sesi

B) Çamaşır makinesi sesi

C) Alarm sesi


D) Korna sesi

4.SINIF KONU KAZANIM KAVRAMA TESTİ
İNGİLİZCE

1. Have

Verilen boşluğa hangisi getirilemez?

- A) dinner
- B) shower
- C) lunch
- D) shopping



2. Yukarıdaki görseli ifade eden cümle hangisidir?

- A) Mix blue and red, you get orange
- B) Mix purple and red, you get blue
- C) Mix blue and red, you get purple
- D) Mix red and purple, you get blue

3. What is his job?

- A) She is a teacher
- B) He is a teacher
- C) He is a policeman
- D) He is a farmer



.....

- **January**
- **February**
- **March**
- **April**

4. Verilen tablonun başlığı hangisi olmalıdır?

- A) Seasons B) Clothes C) Months D) Days

5. It is very cold. I need



- A) trousers B) slippers C) gloves D) sunglasses

6. It's rainy.....

- A) Wear your sunglasses.
- B) Wear your T-shirt.
- C) Wear your skirt.
- D) Take your umbrella.



7. What season is it ?

- A) Winter
- B) Summer
- C) Autumn-Fall
- D) Spring



8. It's Autumn. I need and

- A) gloves – scarf
- B) T- shirt – sunglasses
- C) umbrella – raincoat
- D) boots – hat

9. Where is the spoon ?

- A) It is under the glass.
- B) It is behind the glass.
- C) It is in front of the glass.
- D) It is in the glass.



10. What does she look like?

- A) She has wavy hair.
- B) She has straight hair.
- C) She has curly hair.
- D) She has long blonde hair



4.SINIF KONU KAZANIM KAVRAMA TESTİ
DİN KÜLTÜRÜ VE AHLAK BİLGİSİ

1. Peygamberimizin (s.a.v) adını andığımızda O'na olan sevgi ve bağlılığımızı göstermek için yaptığımız duaya ne denir?

- A) Tekbir B)İstiğfar C)Salavat D)Tesbih

2. Hz. Muhammed'in (s.a.v) anne ve babasının isimleri hangi seçenekte doğru olarak verilmiştir?

- A) Hatice- İbrahim
B) Âmine- Abdullah
C) Fatma- Ebu Talip
D) Halime- Zeyd

3. Peygamberimizin(s.a.v) ahlakını örnek alan bir müslümanda aşağıdaki davranışlardan hangisi görülmez?

- A)Haksızlıklar karşısında adaletten yana olur.
B) Aile büyüklerine değer verir.
C)Yalandan uzak durur.
D)Kendini beğenir, kibirli olur.

Kur'an ilk defa miladi ----- yılı, Ramazan Ayının----- gecesinde melek ----- aracılığıyla indirilmeye başlanmıştır.

4.Yukarıdaki cümlelerin boş yerlerine sırasıyla aşağıdakilerden hangisi getirilmelidir?

- A) 610- Miraç- Azrail
- B) 571- Mekke- Cebrail
- C) 1920- Kadir- Hira
- D) 610- Kadir- Cebrail

5. Aşağıdakilerden hangisi Peygamberimizin davetine uyarak müslüman olan ilk dört kişiden biri değildir?

- A) Hz. Hamza(r.a)
- B) Hz. Ali(r.a)
- C) Hz. Ebu Bekir(r.a)
- D) Hz. Hatice(r.a)

Hz. Muhammed (s.a.v), içinde yaşadığı toplumun gidişatına üzülmüyor ve zaman zaman Mekke yakınlarında bulunan Nur Dağındaki bir mağaraya giderek Rabbini düşünüyor ve toplumun kurtuluşu için dua ediyordu.

6. Hz.Muhammed'in(s.a.v) sürekli olarak gitmiş olduğu ve ilk vahyin de geldiği bu mağaranın adı nedir?

- A) Ashab-ı Kehf
- B) Sevr**
- C) Hira
- D) Kuba

- Hz.Muhammed(s.a.v), asla konuşmaz ve insanlarla kavga etmezdi.
- Hz.Muhammed'e(s.a.v) güvenilir bir insan olduğu için lakabı verilmiştir.
- Hz. Muhammed(s.a.v)'in süt annesinin adı.....'dir.

7. Yukarıdaki boşluklar aşağıda verilen kavramlarla doldurulduğunda hangisi açıkta kalır?

- A) Yalan
- B) Ümmü Eymen
- C) El- Emin
- D) Halime

8. Aşağıdaki tablonun hangi sütununda yanlış bir işaretleme yapılmıştır?

		D	Y
A)	Peygamberimiz ticaretle uğraşmıştır.	X	
B)	Peygamberimizi sekiz yaşından sonra amcası büyütmiştir.	X	
C)	Peygamberimiz Kureyş kabilesine mensuptu.		X
D)	Peygamberimiz 25 yaşında peygamber olmuştur.		X

9.Hz. Muhammed (s.a.v) ve O'na inananlar, Mekkeli müşriklerin baskı ve zulümlerinden kurtulmak için 622 yılında Mekke'den hicret (göç) etmişlerdir.

Yukarıdaki cümlede boş bırakılan yere aşağıdakilerden hangisi getirilmelidir?

A)Medine

B) Taif

C)Yemen

D) Şam

I.Müslümanlar müşriklerin baskı ve zulümlerinden kurtulmuşlardır.

II.Mekke dönemi bitmiş, Medine dönemi başlamıştır.

III.Müslümanlar dinlerini rahatça yaşama ve yayma imkanı bulmuşlardır.

10.Hicretin sonuçları ile ilgili yukarıda verilen bilgilerden hangileri doğrudur?

A) I-II

B) I-III

C) II-III

D) I-II-III

