



# İLKOKULLARDA UZAKTAN EĞİTİM SÜRECİNDE KAZANIM KAVRAMA ÇALIŞMASI

#sakaryacevrimici

#hayatevesiğar



**BU KİTAPÇIKTA**

**TÜRKÇE 10 SORU**

**MATEMATİK 10 SORU**

**HAYAT BİLGİSİ 10 SORU**

**YER ALMAKTADIR**

Bu çalışmada yer alan Toki İlkokulu, Atatürk İlkokulu, Selçukbey İlkokulu, Mehmet Zorlu İlkokulu idareci ve öğretmenlerine teşekkürler...

**SAKARYA MEM**

2020

# 1.SINIF KONU KAZANIM KAVRAMA TESTİ

## TÜRKÇE

Orhan amca elma toplamak için ağaca çıktı.Sepetini ağacın dalına takıp elmaları toplamaya başladı.Bir süre sonra sepet ağzına kadar elma ile doldu.Sepetin ağırlığıyla dal kırıldı.Elma dolu sepet yere düşüp kırılınca elmalar etrafa saçıldı.Bunu gören Aysel teyze gelip, Orhan amcaya yardım etti.Birlikte elmaları topladılar.

Aşağıdaki 1. 2. 3. ve 4.sorular soruları yukarıda verilen metne göre cevaplayın.

1. Orhan amca ağaca niçin çıktı?

A) Armut toplamak için

B) Elma toplamak için

C) Dinlenmek için

2. Sepet niçin ağaçtan düştü?

A) Elmaların ağırlığından

B) Dal çürük olduğu için

C) Sepet kırıldığı için


3.Orhan amcaya kim yardım etti?

A) Ayşe teyze

B) Ali amca

C) Aysel teyze

4.Aşağıdaki görsellerden hangisi metinle ilgilidir?



5. Aşağıdaki sözcük çiftlerinden hangisi zıt anlamlı değildir?

A) Büyük – Kötü

B) Gel - Git

C) Uzak – Yakın

6. Aşağıdakilerden hangisinin hece sayısı farklıdır?

A) Defter

B) Silgi

C) Spor

7. Verilen özel isimlerden hangisi yanlış yazılmıştır?

A) İzmire

B) Filiz'in

C) Simay'ın


8. "Güneş" sözcüğünün ünlü harfleri hangileridir?


A) g, n, ş

B) ü, e

C) e, ş

 Kediye veterinerine götürdük.

 Annem ile İbrahim amcağı ziyarete gidiyorduk.

 Yolda yaralı bir kedi gördük.

9. Oluş sırasına göre yukarıdaki cümleleri nasıl sıralamalıyız?

A)   

B)   

C)   

iki-Canan-yedi -simit

10. Yukarıda verilen kelimelerle anlamlı ve kurallı bir cümle oluşturursak hangisi olur?

A) Canan yedi iki simit.


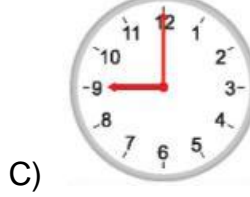
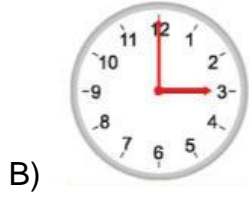
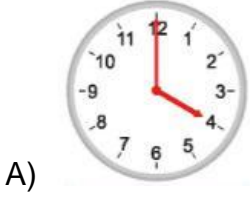
B) İki simit yedi Canan.

C) Canan iki simit yedi.

# 1.SINIF KONU KAZANIM KAVRAMA TESTİ

## MATEMATİK

1.Cem arkadaşlarıyla saat 4'te parkta buluşacaktır.Saat hangisi gibi olduğunda parka gitmelidir?



2. Yukarıdaki görselde kaç tane birim küp kullanılmıştır?




A)6

B)7

C)8

3.“Ali ve Leyla evdeki cisimleri yuvarlayarak oyun oynuyorlar.”

**Ali ve Leyla oyunlarında hangisini kullanamazlar?**



4. Aşağıdaki terazinin denge de durmasının nedeni ne olabilir?




A) Ayva ile narın aynı ağırlıkta olması

B) Ayvanın nardan daha hafif olması

C) Ayvanın nardan daha ağır olması

5. Ali elindeki Legolarla bir örüntü oluşturdu. Aşağıdaki şıklardan hangisi bu örüntüyü doğru olarak devam ettirir?



6- Bugün günlerden Salı ise , yarın hangi gün olacaktır ?

A) Çarşamba

B) Perşembe

C) Cuma

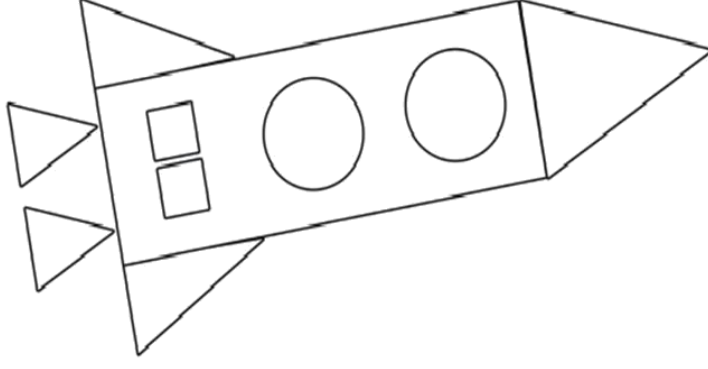
NİSAN						
Pazartesi	Salı	Çarşamba	Perşembe	Cuma	Cumartesi	Pazar
					1	2
3	4	5	6	7	8	9
10	11	12	13	14	15	16
17	18	19	20	21	22	23
24	25	26	27	28	29	30

7. Yukarıdaki takvime göre 23 Nisan Ulusal Egemenlik ve Çocuk Bayramı hangi güne denk gelmektedir?

A) Salı

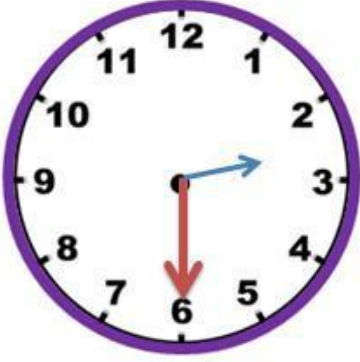
B) Perşembe

C) Pazar



8. Yukarıdaki verilen uzay mekiğiyle ilgili aşağıdaki bilgilerden hangisi doğrudur?

- A) Uzay mekiğinde 3 tane dikdörtgen vardır.
- B) Uzay mekiğinde 5 tane üçgen vardır.
- C) Uzay mekiğinde 3 tane kare vardır.



9. Yukarıda resim saat kaç göstermektedir?

- A) Saat iki buçuğu göstermektedir.
- B) Saat üç buçuğu göstermektedir.
- C) Saat altıyı göstermektedir.

10. Bulduğumuz ay Haziran ayı ise , bir önceki ay hangi ay olur ?

- A) Eylül
- B) Temmuz
- C) Mayıs

# 1.SINIF KONU KAZANIM KAVRAMA TESTİ

## HAYAT BİLGİSİ

Törenler yapılır,halk oyunları oynanır.

Sınıflar süslenir.

Şiirler okunur.

1. Yukarıdaki yapılanlar hangi bayrama ait olamaz?

- A) Ramazan Bayramı
- B) 29 Ekim Cumhuriyet Bayramı
- C) 23 Nisan Ulusal Egemenlik ve Çocuk Bayramı

2. “Zeynep, nüfusun kalabalık olduğu bir yerleşim yerinde yaşıyor.Yaşadığı yerleşim yerinde apartmanlar ve fabrikalar çok fazla.”

**Buna göre Zeynep’in yaşadığı yerleşim yeri aşağıdakilerden hangisidir?**

- A) Kasaba
- B) İl
- C) Köy

3. “Atatürk’ün annesi ..... ,babası..... ’ dir.”

**Yukarıdaki boşluklara sırasıyla aşağıdakilerden hangileri yazılmalıdır?**

- A) Zübeyde Hanım-Ali Rıza Efendi
- B) Lütfiye Hanım-Osman Efendi
- C) Hatice Hanım-Ahmet Efendi

4. Aşağıdaki ifadelerden hangisi bayrağımızın özelliklerinden değildir?

- A) Bayrağımız beyaz ay ve yıldızlı al bayraktır.
- B) Bayrağımız ülkemizin bağımsızlık sembolüdür.
- C) Bayrağımız sadece beyaz renktedir.

5. Vatanımızın adı nedir?

- A) Türkiye Cumhuriyeti
- B) Anıtkabir
- C) Ankara



6. “..... oynamak tehlikeli olabilir.” İfadesi aşağıdakilerden hangisi ile tamamlanabilir?

A) Çocuk Parklarında

B) Okulun Bahçesinde

C) Balkonlarda



7. Resimdeki çocuk ne yapmaktadır?

A) Sağlıklı beslenmektedir.

B) Zararlı ve çok yiyecek yemektedir.

C) Kaliteli ve güzel beslenmektedir.

8. Ayşe, komşusunun evinden duman çıktığını görürse hangi numarayı aramalıdır?

A) 110

B) 155




C) 112

9.Ordu'dan başkentimize otobüsle gitmek isteyen bir yolcu hangi şehre bilet almalıdır?

A) Ankara

B)İzmir

C) İstanbul

10.  Mustafa Kemal Atatürk Ankara'da doğmuştur.  
 Mustafa Kemal Atatürk'ün annesinin adı Zübeyde Hanım'dır.  
 Mustafa Kemal Atatürk'ün mezarı Ankara Anıtkabir'dedir.

Yukarıdaki ifadelerden hangileri doğrudur?

A)  , 

B)  , 

C)  , 