



**İLKOKULLARDA  
UZAKTAN EĞİTİM  
SÜRECİNDE  
KAZANIM  
KAVRAMA  
ÇALIŞMASI  
GENEL  
DEĞERLENDİRME**



#sakaryacevrimici  
#hayatevesiğar

**BU KİTAPÇIKTA,  
TÜRKÇE 10 SORU  
MATEMATİK 10 SORU  
HAYAT BİLGİSİ 10 SORU  
YER ALMAKTADIR.**

Bu çalışmada yer alan Toki İlkokulu, Atatürk İlkokulu, Selçukbey İlkokulu, Mehmet Zorlu İlkokulu idareci ve öğretmenlerine teşekkürler...

**SAKARYA MİLLİ EĞİTİM MÜDÜRLÜĞÜ**

**2020**

1. SINIF KONU KAZANIM KAVRAMA TESTİ  
TÜRKÇE



ANNE

Annemi ben çok severim,  
Melek annem, güzel annem,  
Üzülmesin sakın derim,  
Melek annem, güzel annem

İyi doğru sözler onda,  
Şefkat dolu gözler onda,  
Sevgi, ışık var yolunda,  
Melek annem, güzel annem.

Anne yüzü ne asil yüz,  
Anne gözü ne derin göz,  
Anne özü , pırlanta öz,  
Melek annem , güzel annem.

Rıfat Necdet EVRİMER

1. ve 2. soruları şiire göre cevaplayın.

1) Çocuk kimin üzülmelerini istemiyor ?

- A) Babasının                      B) Annesinin                      C) Kardeşinin

2) Anne yüzü nasıl bir yüzmüş ?

- A) Asil                                      B) Düşünceli                      C) Gülen

3) Aşağıdaki cümlelerin hangisinde “ince” sözcüğünün zıt (karşıt) anlamlısı kullanılmıştır?

- A) Çantası hafif mi?  
B) Etek dar mı geldi?  
C) Kalın kazağını mı giydi?

4) Aşağıdakilerden hangi sözcük doğru yazılmıştır?

- A) Yalnız                                      B) Herkez                                      C) Kirbit

5) Aşağıdaki cümlelerden hangisinde özel isim yanlış yazılmıştır?

- A) Buraya eyüp ve beren geldi.  
B) Bunu Ümit Emre mi yaptı?  
C) Kalemî Egemen'e Çınar vermiş.

6) sinemaya - Dicle - arkadaşlarıyla – gitti

Yukarıdaki sözcüklerle anlamlı ve kurallı bir cümle kurulduğunda aşağıdaki cümlelerden hangisi olur?

- A) Sinemaya gitti Dicle arkadaşlarıyla .  
B) Gitti Dicle sinemaya arkadaşlarıyla.  
C) Dicle arkadaşlarıyla sinemaya gitti.

7) Satır sonuna sığmayan sözcüklerden hangisi doğru ayrılmıştır?

A) .....ark-  
adaşlık

B) .....cum-  
huriyet

C) .....bal-  
oncu

8) Aşağıdaki cümlelerden hangisinin sonuna konulan noktalama işareti yanlıştır?

- A) Atıf ,Ravza ve Yusuf oyun oynadı ?
- B) Oyun oynayalım mı?
- C) Ceren ile Ulaş balık tutuyor.




9) Yanda verilen görselin ismindeki ünlü ( sesli ) harfler hangileridir?

A) g - i - t

B) g - t - r

C) i - a



10)

“Hüseyin Özgür ödevini yapmış”  
cümlesinde kaç hece vardır?

A) 10

B) 11

C) 12

1. SINIF KONU KAZANIM KAVRAMA TESTİ  
MATEMATİK



1)

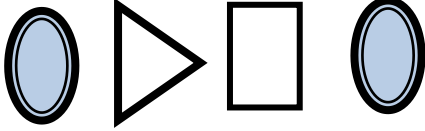
Yandaki saat kaç gösteriyor?

A) 4:00

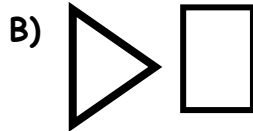
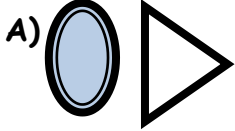
B) 4:30

C) 12:00

2)



Örüntüde boş bırakılan yerlere sırasıyla hangi iki geometrik şekil gelmelidir?



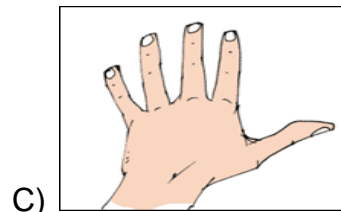
3) Aşağıda verilen işlemlerden hangisinin sonucu en büyüktür?

A)  $5 + 7 =$

B)  $8 + 3 =$

C)  $4 + 9 =$

4) Silgisinin boyunu ölçmek isteyen bir öğrenci hangi ölçüm aracını kullanmalıdır?



5) Zahid ve Elif Rana 11. ayda doğmuştur. Zahid ve Elif Rana'nın doğduğu ay hangisidir?

A) Ekim

B) Kasım

C) Aralık

6) Zeynep , 16 sayfalık bir hikâye kitabının 9 sayfasını okursa geriye okuması gereken kaç sayfa kalır?

A) 9

B) 7

C) 6

7.)**Tablo:** Cumhuriyet İlkokulu 1. Sınıfların Mevcudu

Sınıflar	Öğrenci Sayısı
1/A	31
1/B	27
1/C	30
1/D	28


Tabloya göre hangi sınıfın öğrenci sayısı daha çoktur?

A) 1/C

B) 1/A

C) 1/B

8.)



30 -... - ...-...-

Samet, ilk saymada 30 sayısını söyleyerek geriye doğru 5'şer ritmik sayma yapıyor. Dördüncü saymada hangi sayıyı söyler?


A) 20

B) 15


C) 10



9) Ela Naz'ın kumbarasında yukarıdaki paralar bulunmaktadır. Bu parasıyla aşağıdakilerden hangisini alamaz?



10)



3 arkadaşın her biri yukarıdaki portakallardan 2'ser yarım portakal yemiştir. Tabakta kaç bütün portakal kalır?

A) 1

B) 2

C) 3



# 1. SINIF KONU KAZANIM KAVRAMA TESTİ

## HAYAT BİLGİSİ



1) Atatürk hangi bayramı çocuklara armağan etmiştir?

- A) 23 Nisan Ulusal Egemenlik ve Çocuk Bayramı  
B) 19 Mayıs Atatürk'ü Anma ,Gençlik Ve Spor Bayramı  
C) 29 Ekim Cumhuriyet Bayramı

2) Meryem'in annesinin erkek kardeşi, Meryem'in hangi akrabası olur?

- A) Amca B) Dayı C) Enişte

3) Eski gazeteleri geri dönüşüm kutusuna atmak isteyen Afranur hangi geri dönüşüm kutusunu kullanır?

A)




B)



C)



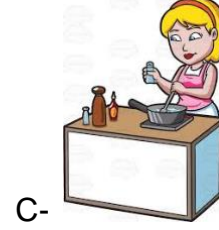

4) Aşağıdaki besinlerden hangisi bitkisel besindir?



5) Aşağıdaki hayvanlardan hangisi kış uykusuna yatar?



6) Zehranur birinci sınıfa giden bir öğrencidir. Zehranur gün içerisinde hangi işi yapamaz?



7) Çekirdek ailede kimler bulunur?

A) Anne, Baba ve Çocuk

B) Anne, Baba, Çocuk ve Dede

C) Anne, Teyze ve Çocuk

8) Asude ve Hüseyin Hamza deprem çantası hazırlayacaklar. Çantaya aşağıdakilerden hangisini koymaları gerekir?

A) El feneri

B) Dergi

C)Gazete

9) Arslan ve Yağmur; Sakarya ilini yöneten kişi ile görüşmek istemektedir. Arslan ve Yağmur'un aşağıdakilerden hangisiyle görüşmesi gerekir?

A) Kaymakam

B) Vali

C) Muhtar

10) Erdem bisikleti ile gezmeye çıkacaktır. Erdem aşağıdaki trafik tabelalarından hangisine dikkat etmelidir?

