



**İLKOKULLARDA
UZAKTAN
EĞİTİM
SÜRECİNDE
KAZANIM
KAVRAMA
ÇALIŞMASI**

#sakaryacevrimici

#hayatevesiğar



BU KİTAPÇIKTA

TÜRKÇE 15 SORU

MATEMATİK 15 SORU

HAYAT BİLGİSİ 15 SORU

FEN BİLİMLERİ 15 SORU

İNGİLİZCE 10 SORU

YER ALMAKTADIR

Bu çalışmada yer alan Toki İlkokulu, Atatürk İlkokulu, Selçukbey İlkokulu, Mehmet Zorlu İlkokulu idareci ve öğretmenlerine teşekkürler...

SAKARYA MEM
2020

3.SINIF KONU KAZANIM KAVRAMA TESTİ

TÜRKÇE

İnsanların yeryüzünde yaşamaya başlamasıyla insan-doğa ilişkisi başladı. İlk zamanlarda tüm ihtiyaçlarını doğadan karşılıyordu. İnsan sayısı az olduğu için doğa eksilen kısımlarını kolaylıkla yenileyebiliyordu. Zamanla insanlar çoğaldı. Buna rağmen doğa insanlara her istediğini verdi. Ancak son birkaç yüzyılda doğaya acımasız saldırılar oldu. Ormanlar yakıldı, hayvanlar soyu tükenecek şekilde avlandı. Havamız, suyumuz, toprağımız kirlendi. Şimdi dünya seller, kasırgalar, kuraklık ve salgın hastalıklarla boğuşuyor. Doğamız bize haykırıyor. Yeter artık yeter. Beni yok ederseniz rahatça yaşayabileceğinizi mi sanıyorsunuz.

Aşağıdaki 1. ve 2. soruları yukarıda verilen metne göre cevaplayın.

1.Yukarıdaki metnin konusu nedir?

- A) Doğa bizden intikam alıyor.
- B) Doğayı korumalıyız.
- C) İnsanların doğaya ihtiyacı yoktur.

2. Yukarıdaki metnin başlığı aşağıdakilerden hangisi olabilir?

- A) Doğamızın Güzellikleri
- B) İnsan ve Doğa
- C) Doğal Felaketler

3. Aşağıdaki cümlelerin hangisinde sebep-sonuç ilişkisi vardır?

- A) Dışarı çıkamadığı için üzgündü.
- B) Çiçeklere bakarak hayale daldı.
- C) Hastalık biterse dışarı çıkabilecek.

4. Aşağıdaki sözcük gruplarının hangisinde tüm sözcüklerin zıt anlamlısı vardır?

- A) tümsek- çiçek-ağır
- B) ıslak-temiz- uzak
- C) yanlış- eski- elbise

5. Aşağıdaki cümlelerden hangisinin sonuna farklı bir noktalama işareti konulmalıdır?

- A) Benden ne istediğini bir türlü anlayamadım
- B) Havalar neden bu kadar sıcak
- C) Beraber yürüelim mi

6. Ünlü harfler #, ünsüz harfler & ile gösterilirse “kelebek“ sözcüğünün kodlaması aşağıdakilerden hangisidir?

A) & # & # & #

B))# & # & # & #

C) & # & # & # &

7. Aşağıdaki metinde öykü unsurlarından yer ve zaman hangi seçenekte verilmiştir?

Bahar gelince her yanı çiçekler sarar.
Bahçemizde açan güller, renk renk
menekşeler mis gibi kokar.

	Yer	Zaman
A)	toprak	bahar
B)	bahçe	bahar
C)	orman	yaz

Önemli işleri tek başımıza tamamlamamız zordur. Güvendiğimiz insanlardan yardım istemeliyiz. Ekip çalışmasıyla yapılamayacak şey yoktur. Yeter ki birlikten güç doğacağını bilelim.

8. Yukarıdaki metnin ana fikri aşağıdakilerden hangisidir?

A) Önemli işleri yaparken yardım istemeliyiz.

B) Yapacağımız her işte yardım istemeliyiz.

C) Bütün işlerimizi birlikte yapmalıyız.

9. “Yoksul – zengin – fakir” kelimeleri, anlam ilişkisi yönüyle belli bir kurala göre dizilmiştir. Aşağıdaki dizilişlerden hangisi bu kurala uymaz?

- A) siyah – kara – ak
- B) ırak – yakın – uzak
- C) kirli – temiz – pis

10. “O” kelimesi hangi cümlede bir ismin yerine kullanılmıştır?

- A) O, bu mahallenin en akıllı çocuğudur.
- B) O öğrenci, bu okulda okumuyor.
- C) Arkadaşım, o evde oturuyor.

11. Aşağıdaki cümlelerden hangisi anlamca olumsuzdur?

- A) Arkadaşımın kalemimi kırdım.
- B) Sami derslerini yaptı.
- C) Çiçekler daha açmadı.

12) Aşağıdaki cümlelerin hangisinde yazım yanlışlığı vardır?

A) Dün okulda neler oldu biliyor musun?

B) Herkes eşyalarını dışarı çıkarsın.

C) Şule, kedisi minnoşa süt vermeyi asla unutmaz.

13. Verilen sözcük gruplarından hangisinde “yangın – duman” arasındaki anlam ilişkisi vardır?

A) “su - dalga”

B) “yazar – roman”

C) “voleybol – top”

14. “SEVGİ” kelimesini oluşturan harflerin alfabetik sıra numarası nasıl olmalıdır?

A) 21- 6- 27- 8- 11

B) 22- 5 -27- 9- 12

C)22- 6 -27- 8- 12

15. Aşağıdaki kelimelerle anlamlı ve kurallı bir cümle oluşturmak istenirse, sıralama aşağıdaki seçeneklerden hangisi gibi olur?

←
geç

↑
sabah

→
uyandım

↓
çok

A)

→ ↓ ← ↑

B)

↓ ← → ↑

C)

↑ ↓ ← →

3.SINIF KONU KAZANIM KAVRAMA TESTİ
MATEMATİK



1. Bir torbada bulunan cevizlerin 25'ini İrem, 19'unu Beril aldı.Ceviz sayılarının eşitlenmesi için İrem, Beril'e kaç ceviz vermelidir?

A)3

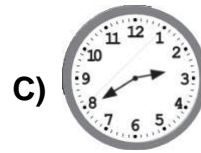
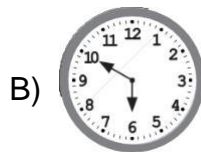
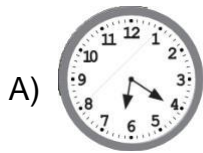
B)4

C)6



6'ya 10 var.

2. Salih'in söylediği zamanı gösteren saat aşağıdakilerden hangisidir?



3.






Buna göre anne ve kızın yaşları farkı kaçtır?

A) 33

B) 23

C) 22

4.



Yukarıdaki modellerin diziliş sırasına göre isimleri hangi seçenekte doğru verilmiştir?

A) Işın – Doğru – Doğru Parçası

B) Doğru – Işın – Doğru Parçası

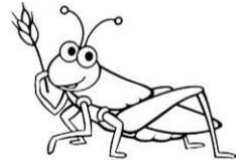
C) Doğru Parçası – Doğru – Işın

5. Çekirgenin, bir zıplaması yaklaşık 300 cm'dir. Acaba 8 kez zıpladığında kaç m ileriye gitmiş olur?

A) 308m

B) 3 m

C) 24 m



6. Çiftçi Ahmet, 96 kg soğanı 3'er kilogramlık çuvalara ayırmak istiyor. Acaba Ahmet'in kaç çuvala ihtiyacı vardır?

A) 32

B) 30

C) 35



7- VE \updownarrow

yazısının simetri doğrusuna göre simetriği aşağıdakilerden hangisidir.

A) EV

B) EV


C) EA

8. Yandaki şekli çizerken aşağıdaki geometrik şekillerden hangisi kullanılmamıştır?

A) Dikdörtgen

B) Üçgen

C) Daire



9. Ayşe'nin annesi pazardan 12 TL 'ye 3 kilogram muz almıştır. Aynı muzdan 15 kilogram almak isterse kaç TL para öder.

A) 35 TL

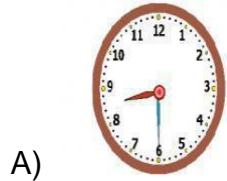
B) 45 TL

C) 60 TL

10.



Yukarıdaki dijital saatin gösterdiği zamanı aşağıdaki analog saatlerden hangisi göstermektedir?



B)



C)



11. Korona virüs salgınından dolayı 2 ay, 2 hafta ara verilen okullarda, eğitime kaç gün ara verilmiştir? (Not:1 ay 30 gün)

A) 62


B) 67

C) 74







E M N

12. Yukarıda modellenen harflerde oluşan açılarla ilgili aşağıdakilerden hangisi söylenemez ?

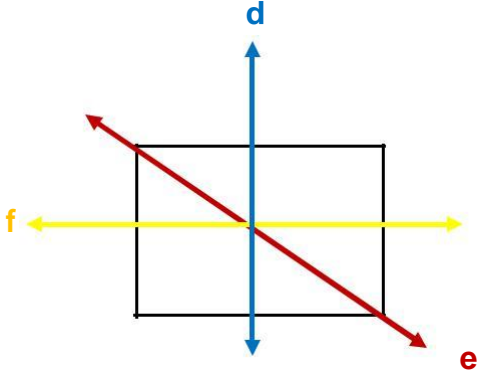
- A) E modelinde dik açı vardır
- B) M modelinde geniş açı vardır.
- C) N modelinde dar açı vardır.



13. Yukarıda verilen örüntüde boş bırakılan soru işaretli yerlere sırasıyla hangi geometrik şekiller gelmelidir

- A)  
- B)  
- C)  

14.



Yukarıda çizilen f ,e ve d doğrularından hangisi dikdörtgene ait simetri doğrusu değildir?

A) d doğrusu

B) e doğrusu

C) f doğrusu

15. 1-) 6 köşesi, 9 ayrıtı, 5 yüzü vardır.

a) silindir

2-) Köşesi ve ayrıtı yoktur, 3 yüzü vardır.

b) doğru

3-)Geometrik cisimlerin yüzlerinin birleştiği yere denir.

c) üçgen prizma

4-) Her iki ucundanda uzatılabilen başlangıcı ve sonu olmayan çizgi modellerine denir. d) ayırıt

Yukarıdaki tanımlarla kavramların doğru eşleştirmesi hangi seçenekte yapılmıştır?

	1	2	3	4
A)	b	c	a	d
B)	c	a	d	b
C)	a	b	c	d

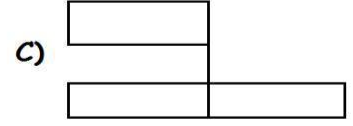
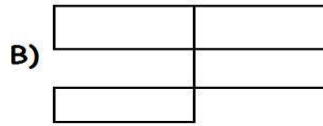
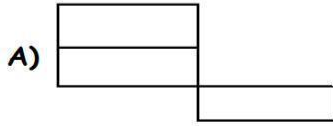
3.SINIF KONU KAZANIM KAVRAMA TESTİ

HAYAT BİLGİSİ

1.

Okulumuzun bahçeleri	Boş otoparklar
Yol kenarları	İnşaat alanları
Sitemizin bahçeleri	Evimizin bahçeleri

Yukarıdaki tablodan güvenli olmayan oyun alanlarının bulunduğu bölümler çıkarılınca tablonun son görünümü nasıl olur?



2.Aşağıdaki tarihi, doğal ve turistik yerlerimiz buldukları illerle eşleştirilmiştir.



Bu eşleştirilmelerin doğru olabilmesi için hangi rakamlarla belirtilen okların yönlerinin değiştirilmesi gerekmektedir?

A) 1 ve 3

B) 3 ve 4

C) 2 ve 3

3. Yandaki fotoğraf, cumhuriyetin ilanı ile birlikte hayatımıza giren önemli değişikliklerden birisidir. Buna göre aşağıdakilerden hangisi ile ilgilidir?

- A) Dilekçe hakkı
- B) Seçme ve seçilme hakkı
- C) Okuma-yazma seferberliği



Mustafa Kemal, vatanımızın tehlike içinde olduğunu görünce içinde bulunduğu durumun şartlarının olumsuzluğuna bakmaksızın tehlikeye atılmaktan çekinmemiştir.

4. Bu ifade ile Mustafa Kemal Atatürk'ün hangi kişisel özelliği vurgulanmıştır?

- A) Barışseverlik
- B) İleri görüşlülük
- C) Cesaret

5. Aşağıda verilen bilgilerden hangisi yanlıştır?

- A) Cumhuriyet 29 Ekim 1923'te kurulmuştur
- B) İlk Cumhurbaşkanımız Atatürk'tür.
- C) Cumhuriyet yönetiminde kadın erkek eşitliği yoktur.

6. Korona virüsle mücadele etmemizde aşağıdakilerden hangisi etkili olmuştur?

- A) Milletçe birlik ve beraberlik içinde hareket etmek
- B) Televizyon izlemek
- C) Kitap okumak

7-.Aşağıdaki sebzelerden hangisi toprağın altında yetişmez?

- A) Patates
- B) Havuç
- C) Fasulye

8. İlçemizi kim yönetir?

- A) Vali
- B) Kaymakam
- C) Muhtar

9. Aşağıdakilerden hangisi Atatürk'ün kişilik özelliklerinden birisi değildir?

- A) Akılcılık
- B) Plansızlık
- C) Çalışkanlık

10. Deprem anında hangisini yaparsak doğru davranmış oluruz?

- A) Merdivenlere kořmak
- B) Asansöre binip binadan çıkmak.
- C) Sağlam bir eşyanın yanına çömelip, depremin bitmesini beklemek.



11. Ülkemizde ilk sivil ve askeri uçağı yapan kimdir?

- A) Vecihi Hürkuş
- B) Nuri Demirağ
- C) Sabiha Gökçen

12. İnsanlar yönlerini bulmak için aşağıdakilerden hangi yöntemi kullanmaz?

- A) Güneşin doğduğu yer doğu, battığı yer batıdır.
- B) Gündüzleri yön bulmada kutup yıldızından yararlanılır.
- C) Ağaçların yosun tuttuğı yön kuzeyi gösterir.

13. "Meyve ve sebzelerin yetişme koşulları birbirinden farklıdır."

Aşağıdaki bitkilerin yetişme koşulu hangilerinde yanlıştır?

- A) Çay bitkisi çok sıcak ve kurak yerlerde yetişir.
- B) Turunçgiller kış mevsimi ılık ve yağışlı yerlerde yetişir.
- C) Zeytin kışları ılık ve yağışlı , yazları sıcak ve kurak yerlerde yetişir.



14.Aşağıdaki sivil toplum kuruluşundan hangisi doğayı ve çevreyi koruma amacıyla kurulmuştur?

A)AKUT

B) TEMA

C) Kızılay

15.Ülkemizde hizmet etmiş ,başarılar kazanmış kişilerden hangisinde yanlışlık yapılmıştır?

A) Naim Süleymanoğlu-Spor

B) Jale İnan-Müzik

C) Mehmet Akif Ersoy-Şair

3.SINIF KONU KAZANIM KAVRAMA TESTİ
FEN BİLİMLERİ



Bitkiler de diğer canlılar gibi yaşam döngüsüne sahiptir.



Bir bitkinin yaşam döngüsü tohumların çimlenmesiyle başlar.



Bitkilerin büyümesi ve gelişmesi için suya ve güneşe ihtiyacı vardır.

1. Yukarıdaki ifadelerden hangileri doğrudur?

A)  

B)  

C)   

2. Doğal çevreyle ilgili olarak aşağıdaki ifadelerden hangisi yanlıştır?

A) İnsanın hazır bulduğu ve kendisini de içine alan canlı, cansız tüm varlıklardan oluşur.

B) İnsan, hayvan, bitki, taş, toprak, deniz doğal çevrenin parçalarıdır.

C) İnsanın bilgi ve birikimleri ile çevreden aldığı kaynaklarla yarattığı çevredir.

3.

- | |
|--|
| <p>1. Hayvanların hepsi hareket edemez.
2. Bitkiler de hareket eder ama hareketleri sınırlıdır.
3. Bütün canlılar kendi besinini kendisi üretir.</p> |
|--|

Yukarıdaki ifadelerden hangileri doğrudur?

- A) Yalnız 2
B) 1 ve 2
C) 2 ve 3

4. Aşağıdakilerden hangisi doğal dengeyi bozmaktadır?

- A) Aslanların geyikleri avlaması.
B) Dağlarda çığ oluşması.
C) Piknik alanlarına atıkların bırakılması.

5. Ayçiçeğinin yapraklarıyla güneşe yönelmesi canlıların hangi özelliğiyle ilgilidir?

- A) Canlılar solunum yaparlar.
B) Canlılar hareket ederler.
C) Canlılar beslenirler.

6. Aşağıdakilerden hangisi yapay çevreye örnektir?

- A) Efes Antik Kenti B) Peribacaları C) Pamukkale Travertenleri

7. Hangisi canlıların ortak özelliği değildir?

- A) Solunum B) Beslenme C) Yürüme

8. *Giyisilerimizin kırıışıklıklarını açar. —————> Ütü

***Yazın bizi serinletir. —————> Mikser**

***Yiyeceklerin bozulmasını engeller. —————> Buzdolabı**

Yukarıda elektrikli ev araç gereçleri kullanım alanları eşleştirmelerinden kaç tanesi doğrudur?

A)1

B)2

C)3

9.



Yan tarafta görseli verilen ürün ile ilgili hangi bilgi yanlıştır?



- A) Elektrik ile çalışır.
- B) Göz sağlığımız için çok yakından bakılmamalıdır.
- C) Görüntüsü var ,sesi yoktur.

10. “Elektrikli araç gereçler , farklı enerji kaynakları ile çalışır.”

Buna göre aşağıda verilen eşleştirmelerden hangisi yanlıştır?

- A) El feneri – Pil
- B) Cep telefonu – Akü
- C) Saç kurutma makinesi -Şehir Elektrığı

11. **“Bütün canlılar hareket eder.”** Bu bilgiye göre aşağıdakilerden hangisi canlıdır?



12.

1-TOPRAK	2-SU	3-BİTKİ	4-KÖPEK
5-HAVA	6-GÜL	7-KAPLUMBAĞA	8-TAŞ

Yukarıdaki tabloda canlı olanların numaraları hangi seçenekte doğru olarak verilmiştir?

A) 1-3-5-7

B) 3-4-6-7

C) 3-5-6-8

13. Yandaki geri dönüşüm kutusundaki atıklar niçin ayrılmış olabilir?

A) Zengin insanların attıklarını dağıtmak için,

B) Atıkları kolay ayırıp, geri dönüştürmek için,

C) Onları ihtiyaç sahiplerine vermek için,



14. () İnsan eliyle oluşturulmuş doğal ortamlara " doğal çevre" denir.

() Bitkiler dünyamızın oksijen kaynağıdır.

() Doğal çevremizi korumak için geri dönüşüme önem vermeliyiz.

() Akarsu ve göller yapay çevreye örnektir.

() Kaktüs ve develerin yaşam alanı çöldür.

Yukarıdaki cümleleri doğru yanlış olarak işaretlersek nasıl bir sonuç çıkar?

A)

Y
D
D
D
Y

 B)

D
Y
D
D
Y

 C)

Y
D
D
Y
D

15. doğal çevreye örnektir.

.....yapay çevreye örnektir.

Yukarıdaki cümleler sırasıyla hangileri ile tamamlanabilir?

A) Peri Bacaları- Sapanca Gölü

B) Pamukkale Travertenleri- Harran Ovası

C-) Ağrı Dağı- Macera Park

3.SINIF KONU KAZANIM KAVRAMA TESTİ
İNGİLİZCE

1-Sponge Bob istoday.

- A) happy B) sad C) angry



2-Lilysing but sheride a bike.

- A) can/can B) can't/can C) can't/can't



3. A - teddy bears have you got?

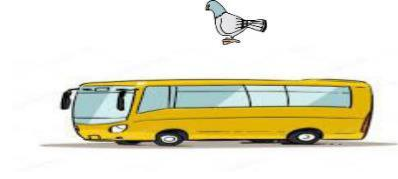
B - Two teddy bears.




- A) What B) How many C) Where

4- Where is the bird ?

- a) The bird is under the bus.
- b) It's near the bus.
- c) The bird is on the bus.



5.



Yukarıdaki resimlere göre aşağıdaki sıralamalardan hangisi doğrudur?

- a) bedroom – kitchen – living room
- b) kitchen – bedroom – living room
- c) bedroom – living room – kitchen

6. Where is Jack?

- a) He is at the hospital.
- b) He is at the school.
- c) He is at the zoo.



JACK

7. How is the weather?

- A) It's rainy.
- B) It's windy.
- C) It's sunny.



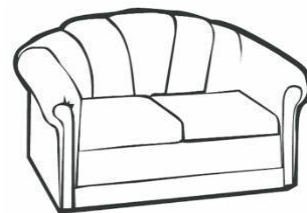
8. Where is the hospital ?

- A) I don't know.
- B) It's over there.
- C) It's here.



9. What is this ?

- A) Shampoo
- B) kettle
- C) Sofa



10. How can I get to Antalya?

You can goplane.

- A) and
- B) by
- C) but



